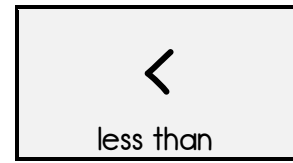
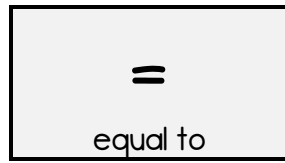
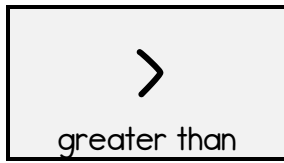



Comparing Numbers

4-Digit Numbers



The hungry croc always eats the larger number!

12  16

7  4

Compare the following numbers using the correct symbols.

1. 4 325 <input type="text"/> 4 253	2. 1 303 <input type="text"/> 1 033	3. 3 521 <input type="text"/> 3 499
4. 6 230 <input type="text"/> 6 320	5. 2 504 <input type="text"/> 2 405	6. 3 845 <input type="text"/> 3 854
7. 6 542 <input type="text"/> 6 482	8. 8 324 <input type="text"/> 8 344	9. 7 002 <input type="text"/> 6 765
10. 1 538 <input type="text"/> 1 540	11. 8 201 <input type="text"/> 8 201	12. 4 536 <input type="text"/> 4 563
13. 7 518 <input type="text"/> 7 581	14. 2 195 <input type="text"/> 997	15. 5 283 <input type="text"/> 5 292
16. 4 812 <input type="text"/> 4 199	17. 3 199 <input type="text"/> 3 200	18. 7 189 <input type="text"/> 7 153
19. 6 411 <input type="text"/> 845	20. 4 911 <input type="text"/> 4 989	21. 3 235 <input type="text"/> 3 235
22. 4 603 > ____	23. ____ < 7 599	24. ____ > 7 999